

令和5年度

熊本県中学校社会科テスト問題(3年)

守っていただきたいこと

1 次の点にご協力ください。

生徒のみなさんへ

- (1) この問題用紙および解答用紙に組・番号・名前を記入し、テスト終了後、テスト監督の先生に渡してください。
- (2) 他の中学校の生徒や、他の営利を目的とする教育機関等に対して、問題の内容を、1月末日以前に話さないようにしてください。

先生方へ

- (1) テスト監督の先生は、解答用紙および問題用紙にも生徒の組・番号・名前が記入されているのを確認した後、社会科主任の先生に渡してください。
- (2) 社会科主任の先生は、1月末日まで、問題用紙・解答用紙・標準解答を保管してください。

2 このテスト問題は、学力を客観的かつ公正に評価するためのものです。本テストの目的を理解し、不正の防止にご協力ください。

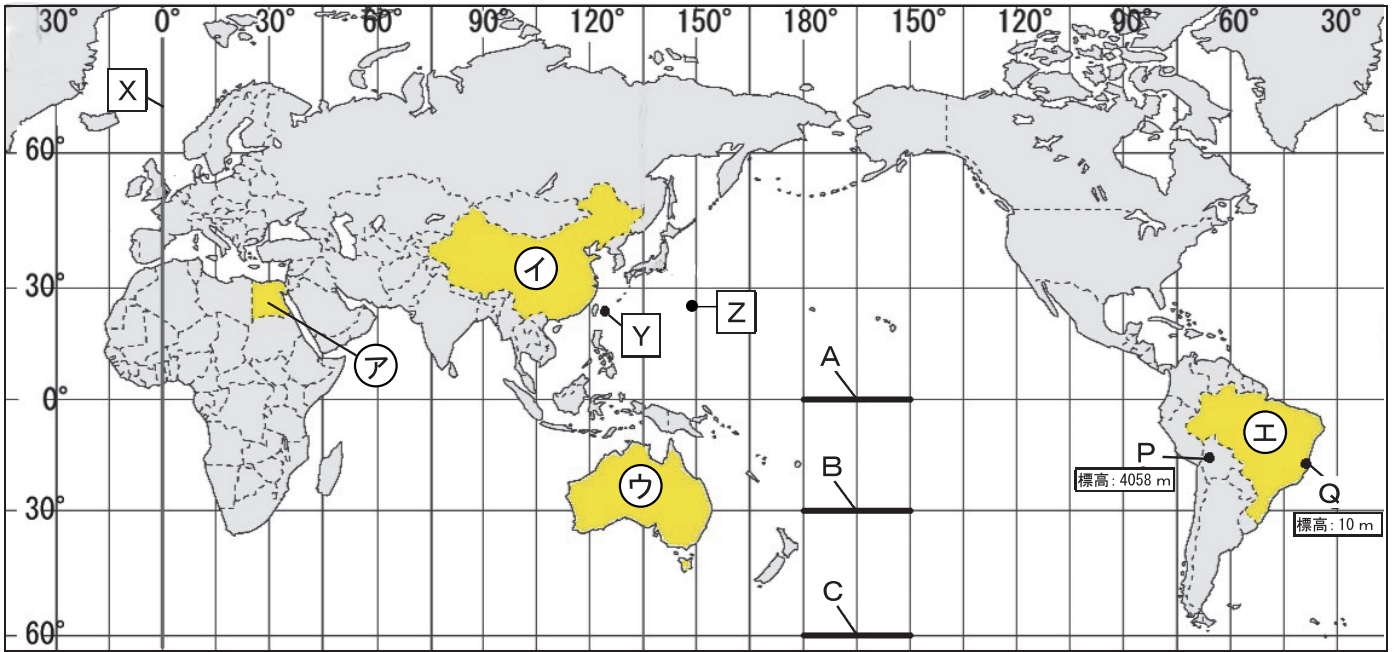
3 なお、このテスト問題や解答等は、本会のWebページ (<http://www.kumamoto-chushaken.com>) に掲載しています(3月以降にアップ) のでご利用ください。

中学校			
3年	組	号名前	

熊本県中学校教育研究会社会科部会
(無断コピーを禁じます)

1 次の各問いに答えなさい。

1図 緯線と経線が直角に交わった地図

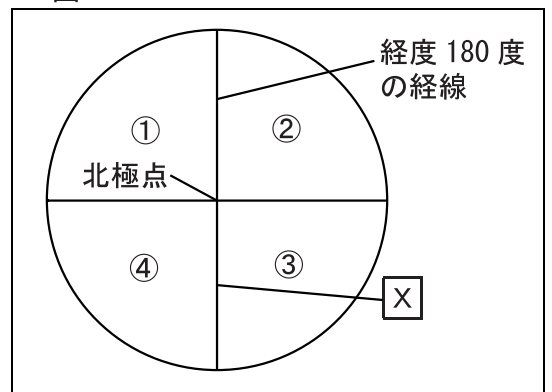


- 1図中の経度0度の[X]の経線を何というか、書きなさい。
- 1図中のA～Cは、地図上ではすべて同じ長さであるが、実際の距離はそれぞれ異なる。実際の距離が最も長いものをA～Cから一つ選び、記号で答えなさい。
- 1図中の[Y]は日本の最西端の与那国島である。2024年1月1日、与那国島（北緯24度27分、東経122度56分）における日の出の時刻は午前7時31分である。[Z]は日本の最東端の南鳥島である。2024年1月1日、南鳥島（北緯24度17分、東経153度59分）における日の出の時刻として最も近いものはどれか、次のア～エから一つ選び、記号で答えなさい。

ア 午前5時27分 イ 午前6時27分 ウ 午前8時27分 エ 午前9時27分

- 2図は地球儀を北極側から見た模式図である。1図の[Y]は、2図中のどの範囲に位置するか、2図の①～④から一つ選び、記号で答えなさい。

2図



- 3表は1図の①～④の国における主な家畜の飼育頭数を示している。①に当てはまる国を、3表のa～dから一つ選び、記号で答えなさい。

3表

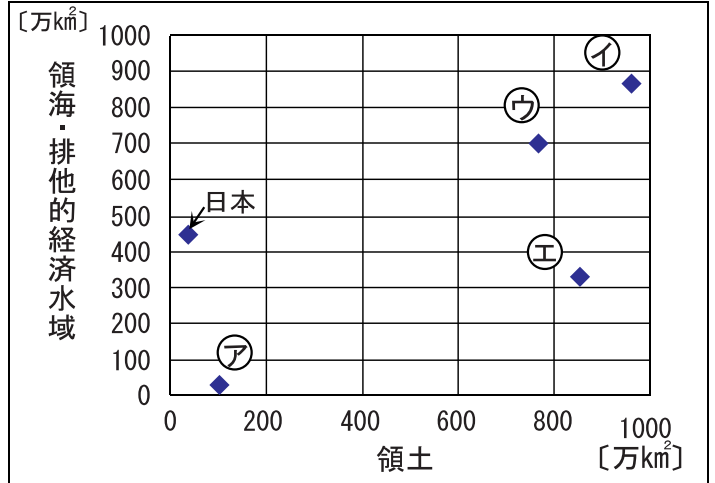
(単位: 千頭)

国	牛	豚	羊
a	2,412	5	2,972
b	23,503	2,258	63,529
c	93,793	77,312	5,200
d	60,976	406,500	173,095

世界国勢図会 2022/23

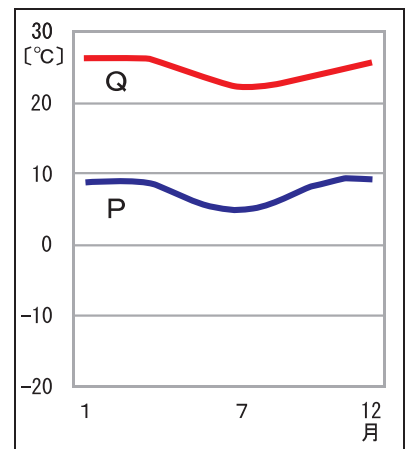
6 4図は、1図の(ア)~(エ)の国と日本の領海・排他的経済水域と領土の広さを示している。(ア)~(エ)の国と比べた日本の特徴について、4図を参考に「領海・排他的経済水域」の語句を使って、簡単に書きなさい。

4図 各国の領海・排他的経済水域と領土の広さ



7 1図のPはラパス (ボリビア), Qはカラベラス (ブラジル) を指している。1図と5図を見て、次の文の□に当てはまる内容を書きなさい。

5図 都市P, Qの月別平均気温



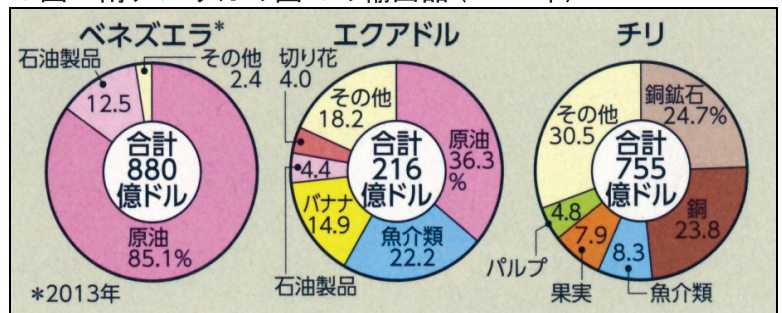
1図の2都市の緯度はほぼ同じであるが、Qに比べてPの平均気温は低い。これは、Pの□からである。

データブックオブ・ザ・ワールド 2023

8 6図を参考に、南アメリカの国々の産業の特色について説明した、下の文の□に当てはまる語句を漢字2字で書きなさい。

6図 南アメリカの国々の輸出品 (2018年)

6図から分かるように、南アメリカの国々は原油などの□資源が豊富で、これらを輸出することで経済を発展させてきた。



UN Comtrade

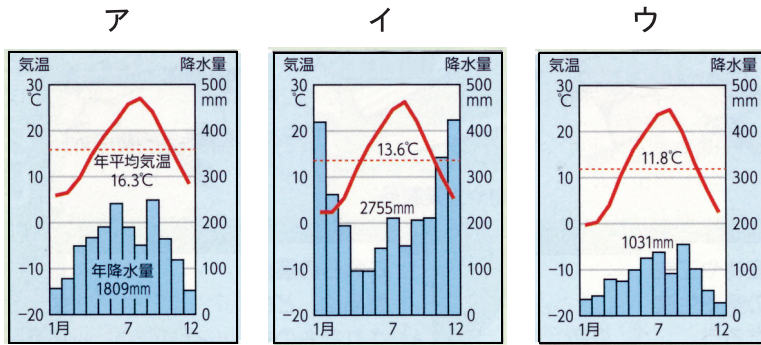
9 1図の(エ)の国の農業について説明した文として誤っているものを、次のア~エから一つ選び、記号で答えなさい。

- ア コーヒー豆に依存したモノカルチャー経済から変化し、多様な農作物を輸出している。
- イ さとうきびは、砂糖だけでなく、バイオ燃料の原料として使われている。
- ウ 熱帯林の開発により、伐採された木材が輸出され、その跡地は牧場や農地になっている。
- エ 小麦の自給率は、100%を大きく上回り、世界有数の小麦輸出国となっている。

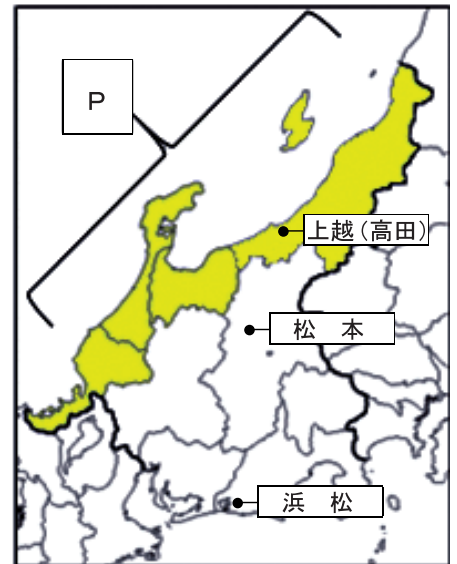
2 次の各問いに答えなさい。

1 中部地方について、次の(1)～(3)の各問いに答えなさい。

(1) 次のア～ウは、7図の上越(高田)・松本・浜松のいずれかを表している。上越(高田)の雨温図として正しいものを、次のア～ウから一つ選び、記号で答えなさい。



7図 中部地方



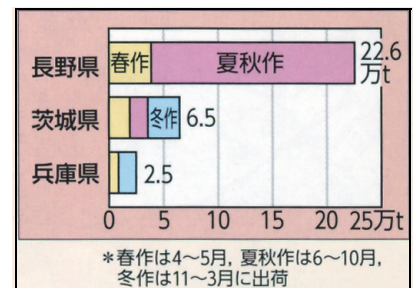
(2) 7図のPが示す地域について述べた文として正しいものを、次のア～エから2つ選び、記号で答えなさい。

- ア 黒部川の流域などで、雪解け水を利用した水力発電の施設が開発され、工業が発展した。
- イ 製糸機械を造る技術と、製糸工場やくわ畑の土地を生かした精密機械工業が発達した。
- ウ ピアノなどの楽器の製造やオートバイ、自動車の生産も盛んになった。
- エ 冬に農作業ができないため、小千谷ちぢみや輪島塗などの伝統産業が盛んになった。

(3) 次の文は、8図について説明したものである。①に当てはまるものをa・bから一つ選びなさい。また、②に当てはまる語句を書きなさい。

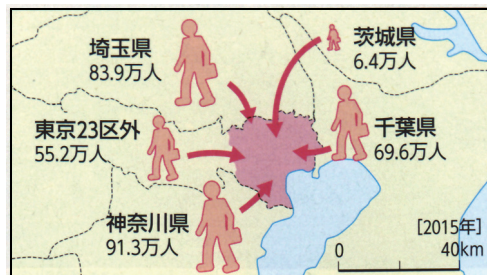
長野県は、① (a 夏でも冷涼 b 冬でも温暖) な気候を生かし、他の産地よりも出荷時期を遅らせるという②栽培を行っている。

8図 レタスの季節別出荷量(2017)

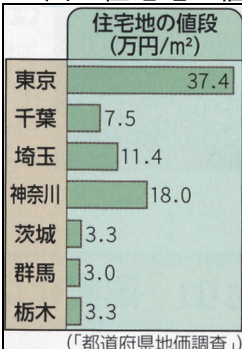


2 関東地方について、次の(1)～(3)の各問いに答えなさい。

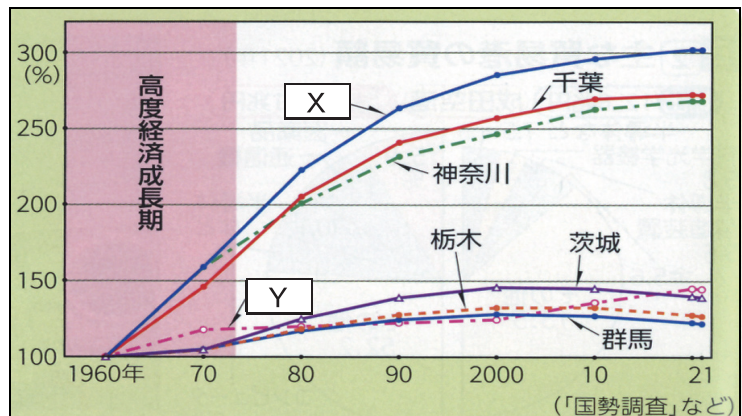
9図 東京23区への通勤・通学者



10図 住宅地の値段



11図 関東地方の人口増加率の変化



(1) 次の文の に当てはまる語句を、漢字2字で書きなさい。

東京大都市圏は、日本の人口の約4分の1が生活する日本三大都市圏として、人口や企業の集中が進んだ結果、 の状態になった。

(2) 9図から、東京23区には他県からの通勤・通学者が多いことが分かる。その理由について、10図を参考に、簡単に説明しなさい。

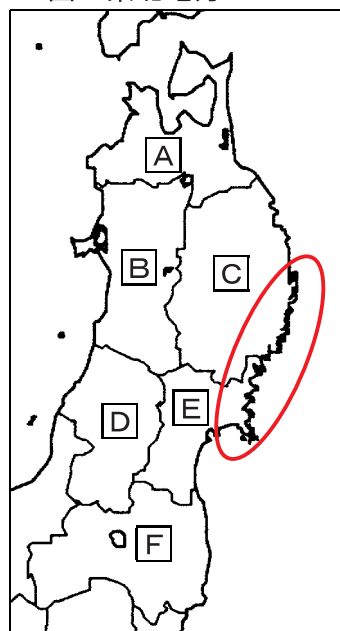
(3) 11図の X ・ Y のうち、東京を示しているものを一つ選び、記号で答えなさい。

3 12図・13表を見て、次の(1)・(2)の各問いに答えなさい。

(1) 12図の に見られる、海岸線が複雑に入り組んだ地形を何と
いうか、書きなさい。

(2) 12図の D と E の県に当てはまるものを、13表のア～エからそれぞれ
一つずつ選び、記号で答えなさい。

12図 東北地方



13表 東北地方の統計資料

県名	人口密度 (人/km ²)	米の 生産量(t)	りんごの 生産量(t)	さくらんぼの 生産量(t)	漁業生産量(t)
ア	78	278,700	42,400	54	110,204
イ	127	283,900	415,700	682	148,065
ウ	314	377,000	2,240	22	243,804
エ	113	402,400	32,300	13,000	3,831
秋田県	81	527,400	15,700	366	6,202
福島県	131	367,000	18,600	365	63,134

(全国都道府県市区町村別面積調べ 2021年)

3 次のカードA～Fを見て、次の各問いに答えなさい。

カードA



私は、蘇我氏と協力して推古天皇を補佐し、天皇を中心とする政治を始めた。また、中国の進んだ制度や文化を取り入れるために、小野妹子らを として派遣した。

カードB



私は、天皇に代わって政治の実権を握り、他の貴族を退けることで、一族は、太政官の多くの役職を独占した。

カードC



私は、後白河上皇の院政を助け、武士として初めて の地位に就いた。一族も高い地位に就き、多くの荘園や公領を支配した。

カードD



私は、南北朝の動乱をしずめて統一を実現させた。また、朝廷が持っていた政治的・経済的な権限を吸収し、室町幕府は、全国を支配する政権になった。

カードE



私は、信長の後継者争いに勝利し、大阪城を築いて本拠地とした。また、田畑の面積や土地のよしあしを調べ、全国の土地を石高という統一的な基準で表わした。

カードF

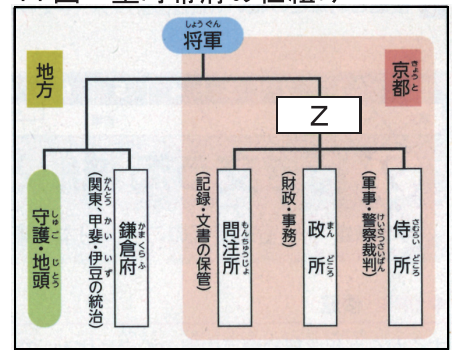


私は、老中として国内外の危機に対応するため、天保の改革を始めた。また、異国船打払令をやめるなど外交政策の転換を行った。

- 1 カードAの に当てはまる語句を書きなさい。
- 2 カードBの政治のことを何というか、書きなさい。
- 3 カードCについて、次の(1)・(2)の各問いに答えなさい。
 - (1) に当てはまる語句を書きなさい。
 - (2) このころの日本と外国との関係に当てはまるものを、次のア～エから一つ選び、記号で答えなさい。
 - ア 東南アジアへの渡航が許可され、朱印船貿易が行われた。
 - イ 明の求めに応じ、倭寇が取り締まられ、勘合貿易が行われた。
 - ウ ポルトガル人やスペイン人との南蛮貿易が行われた。
 - エ 兵庫(神戸)の港が整備され、宋との貿易が行われた。

4 カードDの下線部について、14図の **Z** に当てはまる役職名を、漢字2字で書きなさい。

14図 室町幕府の仕組み



5 カードEについて、次の(1)・(2)の各問いに答えなさい。

(1) 下線部の説明として正しいものを、次のア～エから一つ選び、記号で答えなさい。

- ア 豪族の支配していた土地と人民を、全て国が支配するようになった。
- イ 戸籍に登録された6歳以上の人々に、口分田を与えた。
- ウ 検地帳に登録された百姓は、土地を耕す権利を保障された。
- エ 印旛沼の干拓をするなど、年貢を増やすことを試みた。

(2) この時代の作品として正しいものを、次のア～エから一つ選び、記号で答えなさい。

ア



イ



ウ



エ



6 カードFの人物が行った政策として正しいものを、次のア～エから一つ選び、記号で答えなさい。

- ア 財政を立て直すため、貨幣の質をもどしたり長崎貿易を制限したりした。
- イ 人々に慈悲の心を持たせるため、生類憐みの政策を行った。
- ウ 物価の上昇を抑えるため、営業を独占していた株仲間を解散させた。
- エ 参勤交代を軽減する代わりに、米を献上させる上げ米の制を行った。

4 年表を見て、次の各問いに答えなさい。

年表

年	おもなできごと
1853	ペリーが来航する
1854	幕府がアメリカと日米和親条約を結ぶ
1858	幕府がアメリカと [] 条約を結ぶ
1868	新政府により五箇条の御誓文が出される
1889	天皇により大日本帝国憲法が公布される
1912	元号が明治から大正に変わる
1918	米騒動がおきる A
1931	満州事変がおきる
1945	戦後改革が始まる B
1946	日本国憲法が公布される
1950	朝鮮戦争が始まる C
1972	沖縄が日本に復帰する

1 [] に当てはまる語句を書きなさい。

2 下の表は、[X]の期間中に明治政府が行った三大改革をまとめたものである。[①]・[②]に当てはまる語句を、それぞれ書きなさい。

明治の三大改革		
[①]	徴兵令	地租改正
満6歳以上の男女全てが小学校教育を受けるようになった。全国各地で小学校が造られるようになった。	満20歳になった男子は、士族と平民の区別なく兵役の義務を負った。	①土地の所有権と価格（地価）を定め、地券を発行した。 ②収穫高でなく、地価を基準にして税（地租）をかけた。 ③税率は地価の3%とし、土地の所有者が税を [②] で納めた。

3 大正時代について述べた文として誤っているものを、次のア～エから一つ選び、記号で答えなさい。

- ア 加藤高明内閣は、共産主義などを取りしめるために治安維持法を成立させた。
- イ 原敬が、衆議院第一党の立憲政友会の党员で組織する本格的な政党内閣をつくった。
- ウ 吉野作造は、一般民衆の意向に沿った政治を行う民本主義を主張した。
- エ 板垣退助らは、民撰議院設立の建白書を政府に提出して、自由民権運動を進めていった。

4 日本国憲法と比べて大日本帝国憲法には、どのような特徴があるか。15表を参考に「権限」という語句を使って、解答欄の書き出しに続けて、簡単に説明しなさい。

15表

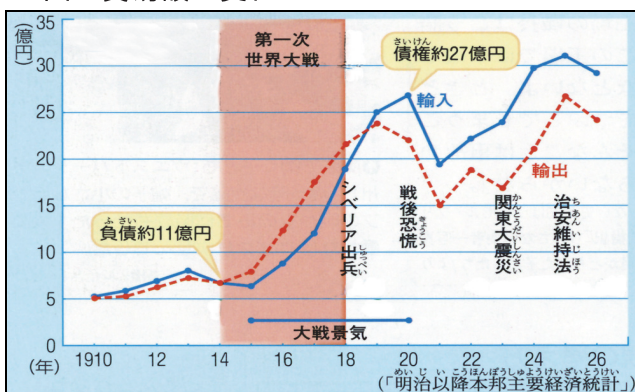
大日本帝国憲法		日本国憲法
天皇主権	主権	国民主権
神聖不可侵で統治権を持つ元首	天皇	日本国と日本国民統合の象徴
法律の範囲内で認められる	人権	おかしことのできない、永久の権利として認められる
天皇が統帥権を持つ 国民に兵役の義務を課す	軍隊	永久に戦争を放棄する

5 次の文は、Aについて説明したものである。□a□～□c□に当てはまる語句の組み合わせとして正しいものを、16・17図を参考にして、下のア～エから一つ選び、記号で答えなさい。

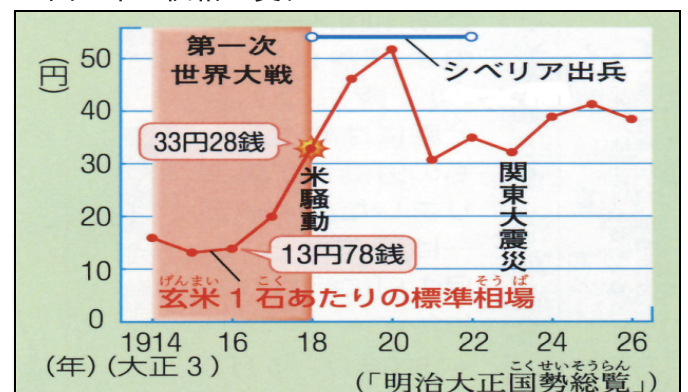
日本は大戦景気で□a□が□b□を上回り、その後も工業化が進んだ。また、農村から都市部への人口が流出したことにより米の生産量が減少した。さらに、シベリア出兵を見越した米の買い占めによって米の価格が□c□したことにより、庶民が安売りを求め、米騒動がおきた。

	a	b	c
ア	輸出	輸入	上昇
イ	輸入	輸出	下落
ウ	輸出	輸入	下落
エ	輸入	輸出	上昇

16図 貿易額の変化



17図 米の価格の変化



6 Bの説明として誤っているものを、次のア～エから一つ選び、記号で答えなさい。

- ア 選挙法が改正され、選挙権が満25歳以上の男子に与えられた。
- イ 民主主義の教育の基本を示す教育基本法が作られた。
- ウ 地主が持つ小作地を政府が買い上げて、小作人に安く売った。
- エ 日本の経済を支配してきた財閥が解体され、多くの子会社が独立した。

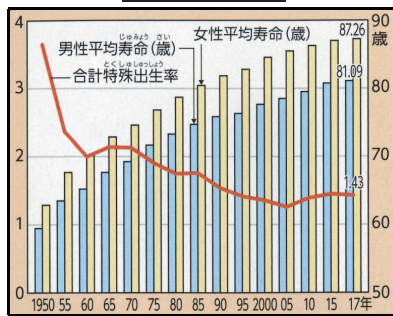
7 Cについて、このとき、GHQの指令により国内に作られた組織を何というか、書きなさい。

8 次のア～ウは、□Y□の期間中に起きたできごとである。ア～ウを年代順に並べなさい。

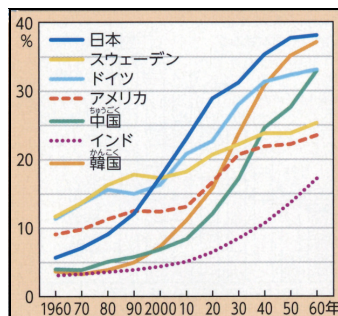
- ア 日韓基本条約の締結
- イ サンフランシスコ平和条約の締結
- ウ 日ソ共同宣言の署名

5 次の各問いに答えなさい。

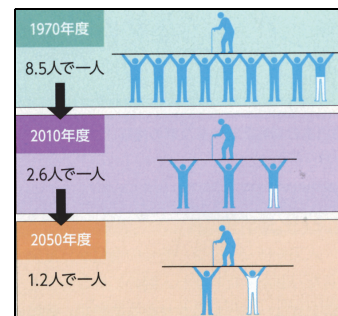
18 図 A



19 図 B



20 図 C



1 18～20図を見て、次の(1)・(2)の各問いに答えなさい。

- (1) A～Cの資料名を、次のア～エから一つずつ選び、それぞれ記号で答えなさい。
 ア 日本の合計特殊出生率と平均寿命の推移 イ 人口に占める高齢者の割合の推移と将来
 ウ 国民の年金負担 エ 海外で暮らす日本人の数の推移

(2) 次の文の①・②に当てはまる語句を、それぞれ書きなさい。

18・19図から、日本は①が進んでおり、20図からは、国民の年金負担が大きくなっていることが分かる。また、グローバル化によって21図のように、外国人②の存在も身近になっている。

21 図 日本の介護施設で働くベトナム人



2 次の(1)・(2)の各問いに答えなさい。

- (1) 右の会話文は、学習発表会で何を発表するかについて話し合ったときのものである。下線部 a～c は、それぞれ、「効率」と「公正」のどちらの考え方に基づいたものか。組み合わせとして正しいものを、次のア～エから一つ選び、記号で答えなさい。

	a	b	c
ア	効率	公正	効率
イ	効率	効率	公正
ウ	公正	効率	公正
エ	公正	公正	効率

信介：劇と彫刻作品の展示のどちらにするか、a 一人一人意見を述べる機会を設けましょう。
 勇人：b 集まる回数が少なく制作できるから、劇よりも彫刻作品の展示がいいと思います。
 栄作：劇と比べて、体を動かさなくてもよい彫刻作品の展示に賛成です。c けがをして運動を控えている友達でも、参加できるからです。

(2) 右の表は、決まりを作る際の決定の方法についてまとめたものである。

□に当てはまる語句を、漢字4字で書きなさい。

決定の方法	長所	短所
全会一致	全員が決定に納得する。	決定に時間がかかる。
多数決	一定時間内に決定できる。	□が反映されにくい。

3 次の文を読んで、次の(1)～(3)の各問いに答えなさい。

人権の保障は、一人一人の個性を尊重し、かけがえのない P としてあつかうという P の尊重の原理(憲法第13条)に基づいています。このことは、憲法第14条に書かれている Q の平等とも深く関係しています。これは、ある人を特別に有利にあつかったり、不利にあつかったりすれば、P の尊重がそこなわれるからです。また近年、科学技術の発展にともなって、日本国憲法には直接的に規定されていない権利が主張されるようになりました。これらは d 「新しい人権」とよばれています。一方、人権は、多くの人々が同じ社会で生活するために制限されることがあります。これを e 「公共の福祉」といいます。

- (1) ・に当てはまる語句を、それぞれ書きなさい。
- (2) 下線部 d について、22図のマンションが階段状の形になっている理由を、「まわりに住む人たち」の語句を使って、簡単に説明しなさい。
- (3) 下線部 e によって、自由権が制限される例として当てはまらないものを、次のア～エから一つ選び、記号で答えなさい。
- ア 他人の名誉を傷つける書物の出版禁止
 - イ 医師免許を持たないものの医療行為の禁止
 - ウ 感染症による入院措置
 - エ 公務員のストライキの禁止

22 図



- 4 次の文の ・ に当てはまる数字と語句を、それぞれ書きなさい。

日本国憲法の第 条では戦争放棄、戦力の不保持及び交戦権の否認を定めている。しかし、国際情勢の変化を受けて、近年は防衛関係費を増加させ、2015年には集団的 権を行使できるとする法改正が行われた。

- 5 北海道で古くから生活してきた人々を先住民族として認め、その文化を継承するために2019年に成立した法律を 民族支援法（施策推進法）という。 に当てはまる語句を書きなさい。

- 6 次の各問いに答えなさい。

- 1 選挙について、次の (1)・(2) の各問いに答えなさい。
- (1) 代表者を選挙で選び、その代表者が集まって議会をつくり、ものごとを話し合っていて決めるという政治のやり方を何というか、書きなさい。
- (2) 「0増5減」や「0増6減」などの法改正が行われることになった理由を、23図の語句を使って、簡単に説明しなさい。

23 図 過去の衆議院議員選挙中における一票の格差の状況と法改正

過去の衆議院選挙	一票の格差
2009年	最大格差 2.30 倍
2012年	最大格差 2.43 倍
2013年 ※「0増5減」実現を目指した法改正	
2014年	最大格差 2.13 倍
2017年 ※「0増6減」実現を目指した法改正	
2017年	最大格差 1.98 倍
2021年	最大格差 2.18 倍
2022年 ※「10増10減」を目指した法改正	

※ 2013年…小選挙区が、山梨、福井、徳島、高知、佐賀の5県で選挙区が各1減少。
 2017年…小選挙区が、青森、岩手、三重、奈良、熊本、鹿児島島の6県の定数を各1減少。
 2022年…小選挙区が、東京や神奈川など5つの都と県で10増加し、宮城や新潟、広島など10の県で1つつつ、合わせて10減少。

- 2 24図は、2017年（平成29年）の国会の1年の動きを表したものである。

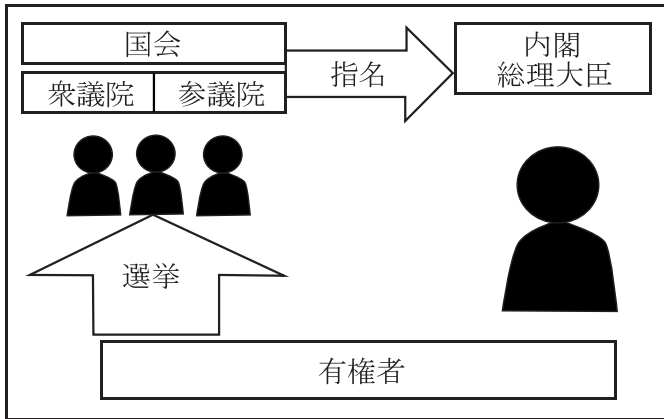
・ に当てはまる語句を、それぞれ漢字2字で書きなさい。

24 図 2017年（平成29年）の国会の1年の動き

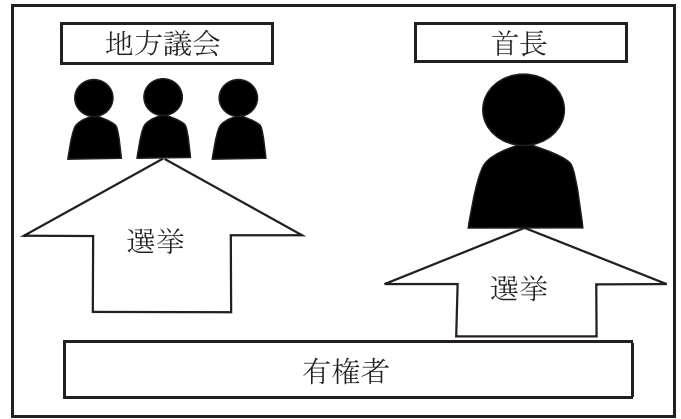
(月)	1	2	3	4	5	6	7	8	9	10	11	12
	常 会										<input type="text" value="Y"/> 会	
主な動き	一月二十日 平成二十九年度 <input type="text" value="X"/> 案提出	二月二十七日 衆議院で <input type="text" value="X"/> 案可決	三月二十七日 参議院で 平成二十九年度 <input type="text" value="X"/> 案可決 成立		会期中に七十三件の法律案が成立	六月十八日 閉会			臨時会 九月二十八日 衆議院解散 閉会	十月二十二日 総選挙実施	十一月一日 召集 内閣総理大臣の指名	十二月九日 閉会 会期中に十件の法律案が成立

3 25・26図を見て、次の(1)・(2)の各問いに答えなさい。

25図 内閣総理大臣の選出



26図 地方公共団体の首長の選出



- (1) 25図にあるように、国会が衆議院と参議院で構成されている制度を何とというか、書きなさい。
(2) 内閣総理大臣の選出と比較して、地方公共団体の首長はどのように選出されるか、25・26図を見て、簡単に説明しなさい。

4 日本の裁判員制度について、誤っているものを次のア～エから一つ選び、記号で答えなさい。

- ア 裁判員は、満18歳以上の国民の中から、くじと面接によって選ばれる。
イ 裁判員は、原告と被告の意見を聞き、当事者同士で話し合い、和解を促すこともある。
ウ 裁判員は、地方裁判所で行われる刑事裁判の第一審のみに出席する。
エ 裁判員は、裁判官とともに有罪か無罪かを判断し、有罪ならば刑罰について評決する。

5 2023年の3月に、東京から京都に移転し業務を開始した庁名として正しいものを、次のア～エから一つ選び、記号で答えなさい。

- ア 文化庁 イ 金融庁 ウ 国税庁 エ 観光庁

6 次の文の に当てはまる語句を、漢字2字で書きなさい。

私たちは した消費者として、自分で知識や情報を集め、的確な判断力を養い、その判断に基づいて行動する必要がある。