

令和5年度

熊本県中学校社会科テスト問題(1年)

守っていただきたいこと

1 次の点にご協力ください。

生徒のみなさんへ

- (1) この問題用紙および解答用紙に組・番号・名前を記入し、テスト終了後、テスト監督の先生に渡してください。
- (2) 他の中学校の生徒や、他の営利を目的とする教育機関等に対して、問題の内容を、2月末日以前に話さないようにしてください。

先生方へ

- (1) テスト監督の先生は、解答用紙および問題用紙にも生徒の組・番号・名前が記入されているのを確認した後、社会科主任の先生に渡してください。
- (2) 社会科主任の先生は、2月末日まで、問題用紙・解答用紙・標準解答を保管してください。

2 このテスト問題は、学力を客観的かつ公正に評価するためのものです。本テストの目的を理解し、不正の防止にご協力ください。

3 なお、このテスト問題や解答等は、本会のWebページ (<http://www.kumamoto-chushaken.com>) に掲載しています(3月以降にアップ) のでご利用ください。

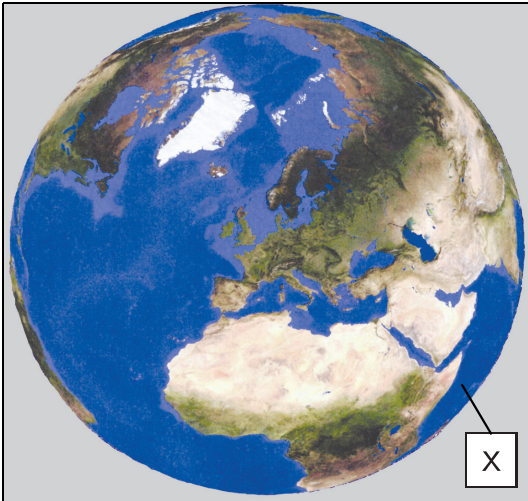
中学校			
1年	組	号名前	

熊本県中学校教育研究会社会科部会
(無断コピーを禁じます)

1 次の各問いに答えなさい。

1 1～3図を見て、次の(1)～(4)の各問いに答えなさい。

1図 陸地が多く見える向きからみた地球



2図 緯線と経線が直角に交わる地図



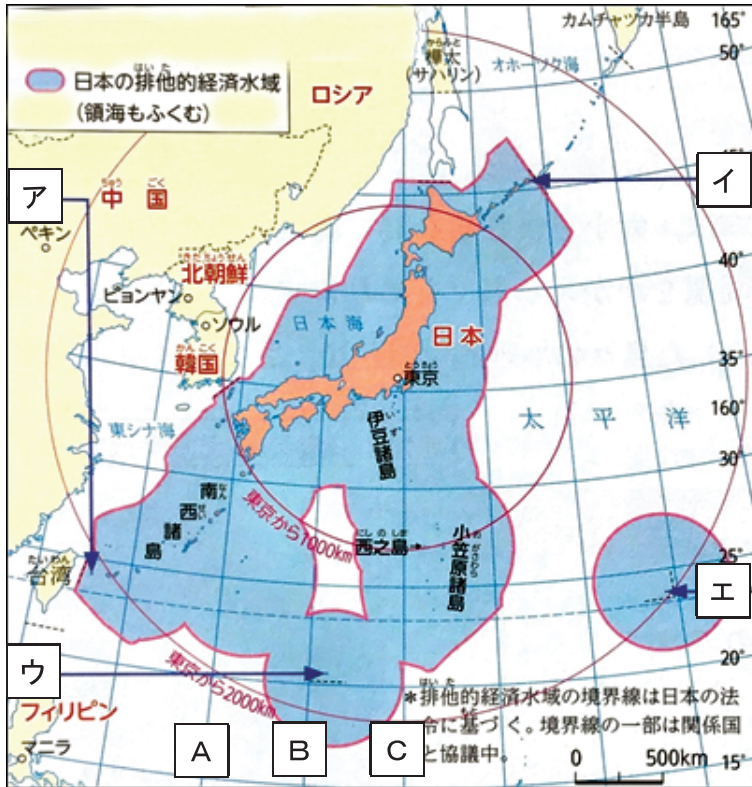
3図 FIBA バスケットボールワールドカップ2023 グループE

	国土面積 (2018)	人口 (2018)	人口密度 (2018)	ロンドンからの時差
オーストラリア	769 万km ²	2, 499 万人	3 人/km ²	+10 時間
ドイツ	36 万km ²	8, 279 万人	Y 人/km ²	+1 時間
日本	38 万km ²	12, 744 万人	337 人/km ²	+9 時間
フィンランド	34 万km ²	554 万人	16 人/km ²	+2 時間

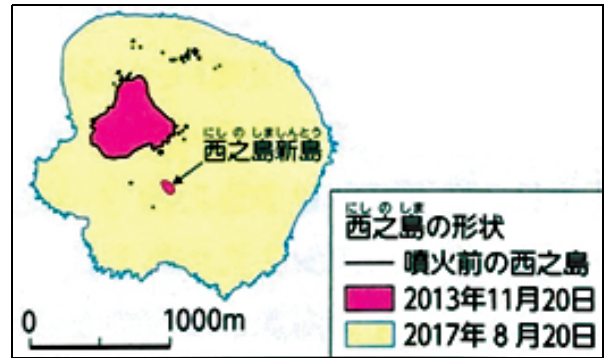
- (1) 1・2図の**X**は同じ海洋を示している。**X**に当てはまる海洋名を書きなさい。
- (2) 2図に赤で示した4か国は、3図の国々である。2図に赤で示された4か国のうち、1図で見ることができない国をすべて書きなさい。
- (3) 3図の**Y**にあてはまる数字として適切なものを、次のア～エから一つ選び、記号で答えなさい。
 ア 22.9 イ 229.9 ウ 43.4 エ 434.8
- (4) 3図の読み取りとして正しいものを、次のア～エから一つ選び、記号で答えなさい。
 ア 最も国土面積が大きいのは、フィンランドである。
 イ オーストラリアの国土面積は、日本の国土面積の70倍以上ある。
 ウ ドイツ・フィンランド・オーストラリアの人口を合わせても、日本の人口の方が多い。
 エ ドイツと日本の時差は、10時間である。

2 4・5図を見て、次の(1)～(3)の各問いに答えなさい。

4図 日本の領域と排他的経済水域



5図 噴火を続ける西之島の海岸線の変化



- (1) 4図の **ア**～**エ** は、日本の東西南北の端に位置する島を示している。東京からの距離が最も遠い島を、**ア**～**エ** から一つ選び、記号で答えなさい。また、その島名を書きなさい。
- (2) 4図を見て、次の①・②の各問いに答えなさい。
- ① 日本の標準時子午線として正しいものを、**A**～**C** から一つ選び、記号で答えなさい。
 - ② 日本を7地方区分した場合に、北緯40度線が通っている地方名を書きなさい。
- (3) 5図の変化によって、西之島は拡大を続けている。これによって、どのようなことがおこると考えられるか。4図を参考にして、「排他的経済水域」の語句を使って説明しなさい。

2 次の各問いに答えなさい。

1 太郎さんは、世界各地の生活を知るために、各地域の気候について調べ、それを6図のようにまとめた。6図を見て、次の(1)～(6)の各問いに答えなさい。

6図

気温は日本とあまり変わらないが、夏の降水量が少なく乾燥する。そのため、住居は石造りのものが多く、窓を小さくするなど、夏の強い日差しを避けるために、家の中を涼しくするための工夫が見られる。

夏は20℃くらいまで気温が上がるが、冬は-20℃くらいまで気温が下がり、夏と冬の気温差が大きい。そのため、冬場には暖房の熱などで

Q

という工夫が見られる。

X

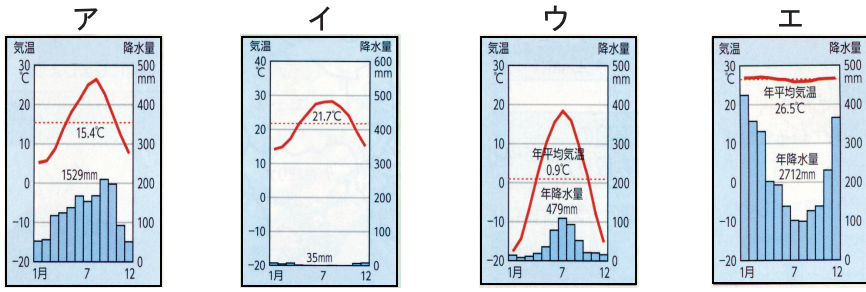
1年中気温が非常に高く、雨季と乾季とで降水量の差が激しい。そのため、
a 住居は石造の家が一般的で、暑さを防ぐために壁を厚くするなどの工夫が見られる。

1年中気温が非常に高く、降水量が多い。夕方からは毎日のように雨が降る。そのため、湿気が多く、伝統的な住宅には風通しを良くするための工夫が見られる。

Y

1日の気温の変化が激しく、昼間は20℃くらいまで気温が上がり、夜間は0度以下になることもある。
b 低緯度のわりには気温が上がらないことも、この地域の特徴である。

(1) X・Yに当てはまる雨温図を、次のア～エからそれぞれ一つずつ選び、記号で答えなさい。



(2) 下線部 a の住居で木材が使用されていない理由について説明した次の文の P に当てはまる内容を書きなさい。

ニアメは降水量が少ないため、P

(3) Q に当てはまる内容を、7図を参考にして、「永久凍土」の語句を使って書きなさい。

7図

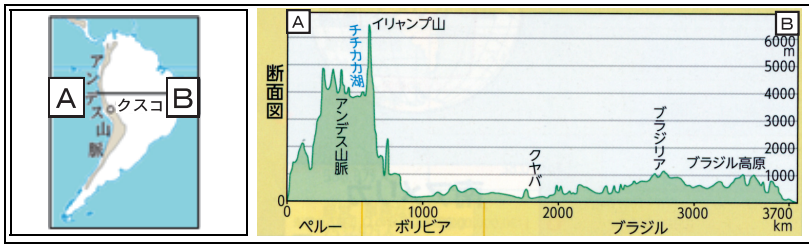


(4) ニアメはサヘルとよばれる地域に属する。サヘルの生活を表しているものとして、最もふさわしい写真を、次のア～エから一つ選び、記号で答えなさい。



(5) 下線部 b の理由を、8 図を参考にして説明しなさい。

8 図

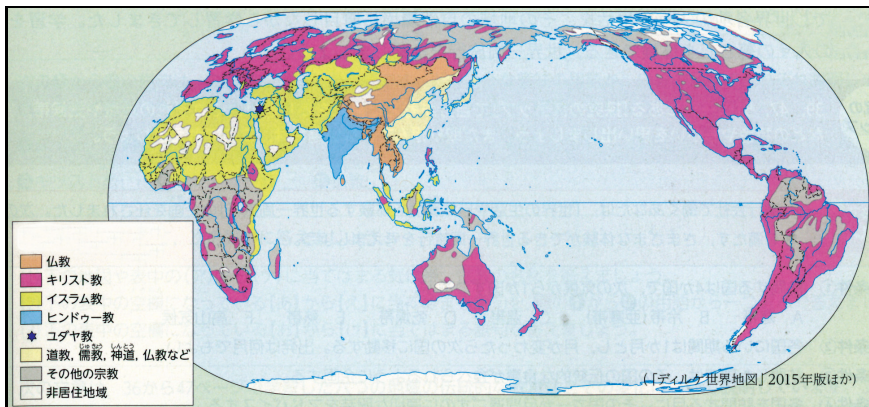


(6) 地図中の4つの都市で、気候を生かして栽培されているものの組み合わせとして正しいものを、次のア～エから一つ選び、記号で答えなさい。

	ローマ	イルクーツク	アピア	クスコ
ア	じゃがいも	タロイモ	ライ麦	オリーブ
イ	じゃがいも	タロイモ	オリーブ	ライ麦
ウ	オリーブ	ライ麦	じゃがいも	タロイモ
エ	オリーブ	ライ麦	タロイモ	じゃがいも

2 9・10図を見て、次の(1)・(2)の各問いに答えなさい。

9 図 世界の宗教分布



10 図 ハラル認証のマーク



(1) 9 図の説明として誤っているものを、次のア～エから一つ選び、記号で答えなさい。

- ア ヨーロッパ州では、主にキリスト教が信仰されている。
- イ アフリカ州南部と西アジアでは、主にイスラム教が信仰されている。
- ウ 東アジアでは、主に仏教が信仰されている。
- エ 南アジアでは、主にヒンドゥー教が信仰されている。

(2) 10図は、ある宗教を信仰する人々が、安心して食事をできるようにするために、飲食店などで表示されるものである。ある宗教とは何か書きなさい。

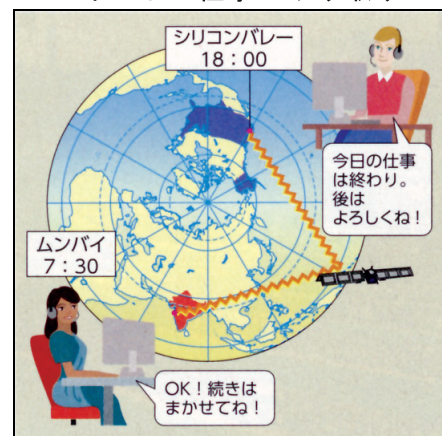
3 次の各問いに答えなさい。

1 次の (1) ~ (5) の各問いに答えなさい。

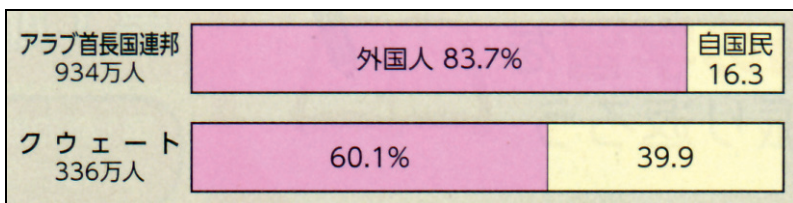
国または地域	経済が成長した理由	経済成長による課題
中国	技術や資金を得るために外国企業を積極的に受け入れる a を設ける。	e
東南アジア	ほとんどの国が、東南アジアの国々で組織される b に加盟しており、輸入品にかかる税である関税をなくすなど、結びつきを強めている。	東南アジアでは、都市にスラムができたり、大気汚染などの問題が生じたりした。
南アジア	インドでは、英語や数学の教育水準が高いことなどから、 c 情報通信技術 (ICT) 関連産業が急速に成長している。	食料やエネルギーの確保が難しくなる。また、貧困により教育を満足に受けられない子供も多い。
中央アジア・西アジア	鉱産資源に恵まれ、特に d ペルシャ湾岸を中心に埋蔵する原油を輸出することで、都市が発展している。	資源が少ない国々の発展の遅れや、鉱産資源をめぐる利害関係の対立が生じている。

- (1) **a** に当てはまる語句を、漢字 4 字で書きなさい。
 (2) **b** に当てはまる組織名を書きなさい。
 (3) 下線部 **c** について、インドにアメリカ合衆国の企業のコールセンターが置かれている利点を、11図を参考に、時差に着目して説明しなさい。

11図 時差を利用したアメリカとインドの仕事のやり取り



12図 ペルシャ湾岸の国々の総人口に占める外国人の割合



- (4) 下線部 **d** では、12図のように、総人口に占める外国人の割合が多くなっている。その理由の一つとして考えられることを説明した次の文中の **X** ・ **Y** に当てはまる語句を、それぞれ書きなさい。なお、**X** には鉱産資源の名前が当てはまる。

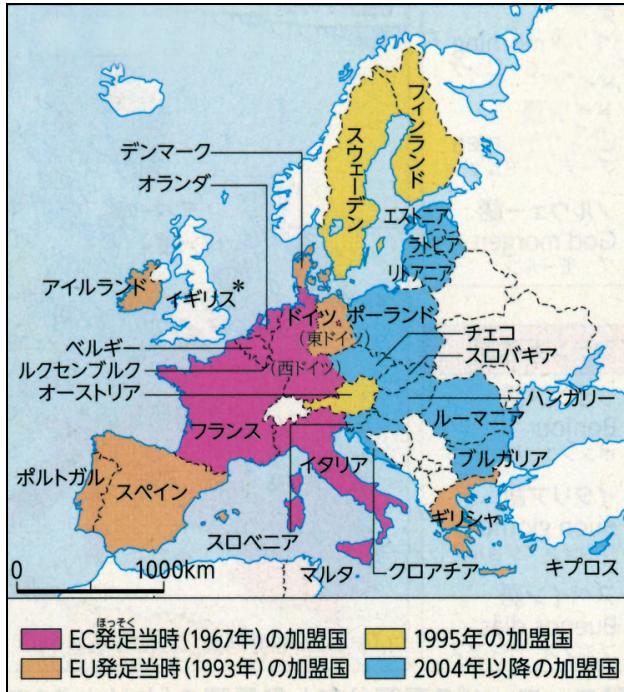
ペルシャ湾岸では、**X** による収入を生かした開発が進み、都市の建設現場などで **Y** が不足するようになり、周辺地域からの出稼ぎにきた外国人 **Y** を受け入れるようになったから。

- (5) **e** に当てはまる、中国が抱える経済成長による課題として誤っているものを、次のア～エから一つ選び、記号で答えなさい。
 ア 経済発展によって、沿岸部に工場が増え、内陸部との格差が広がった。
 イ 経済発展によって、交通量が増え、都市部では渋滞が見られるようになった。
 ウ 経済発展によって、人口が増え、十分な食料が得られずに栄養不足となる人が増えた。
 エ 経済発展によって、化石燃料を大量に消費するようになり、大気汚染がおきた。

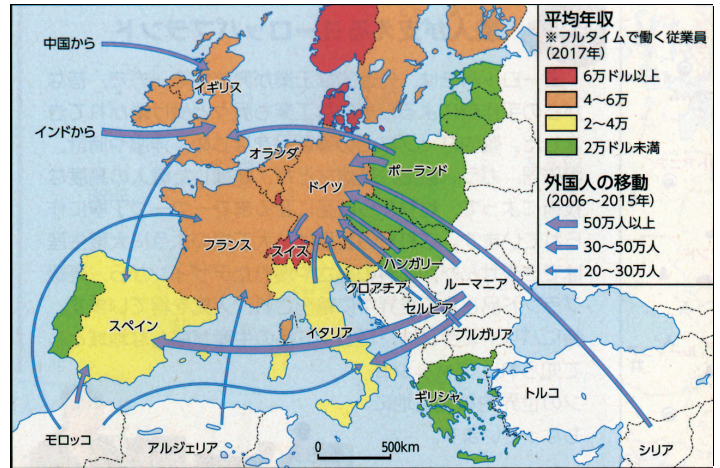
2 13~15図を見て、次の(1)~(4)の各問いに答えなさい。

ヨーロッパの統合と変化

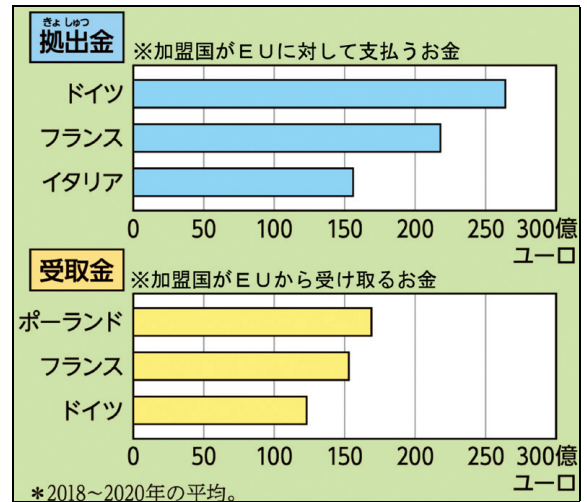
13図 ヨーロッパ統合の拡大



14図 東ヨーロッパの主な国の輸出相手国の変化



15図 EUへの拠出額とEUからの受取額の上位3か国

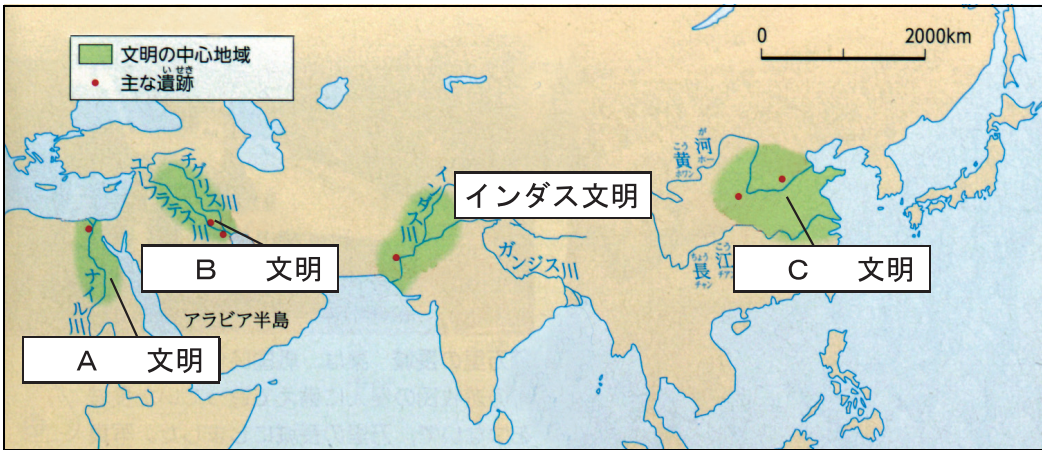


- (1) EUの特徴として誤っているものを、次のア~エから一つ選び、記号で答えなさい。
- ア EU加盟国内では、すべての国でユーロが共通通貨として使われている。
 - イ EU加盟国内では、パスポートなしで自由に行き来することができる。
 - ウ EU加盟国内では、航空機などが複数の国で分業して生産されている
 - エ EU加盟国内では、貿易をする際に税金がかからないしくみになっている。
- (2) 2016年に行われた国民投票の結果によって、2021年にEUからの離脱が完了した国を書きなさい。
- (3) 13・14図の読み取りとして正しいものを、次のア~エから一つ選び、記号で答えなさい。
- ア 2004年以降の加盟国の多くは、平均年収2万ドル未満である。
 - イ EU内への外国人の移動は、ヨーロッパ諸国間でのみ行われている。
 - ウ EU発足当時の加盟国は、全て平均年収が2万ドル以上である。
 - エ 2004年以降にEUに加盟した国は、ヨーロッパの西側の国が多い。
- (4) 15図は、EUで行われている取り組みの一つである。この目的を、14図を参考にして、「経済格差」の語句を使って説明しなさい。

4 次の各問いに答えなさい。

1 16図を見て、次の(1)・(2)の各問いに答えなさい。

16図 古代文明の起こり



(1) A ~ C の組み合わせとして正しいものを、次のア~エから一つ選び、記号で答えなさい。

	A	B	C
ア	メソポタミア	エジプト	中国
イ	エジプト	中国	メソポタミア
ウ	エジプト	メソポタミア	中国
エ	中国	メソポタミア	エジプト

(2) インダス文明の特徴を、次のア~エから一つ選び、記号で答えなさい。

- ア 都市国家（ポリス）を各地に建設し、民主政を行った。
- イ 国王を神とし、1年を365日とする太陽暦が発明された。
- ウ 計画的に整備された、モヘンジョ=ダロなどの都市が繁栄した。
- エ 1週間を7日とし、時間を計るために60進法が考えだされた。

2 古代の中国について、カードI~IVを見て、次の(1)~(6)の各問いに答えなさい。

I	II	III	IV
<p>【 秦 】</p> <p>中国を統一した秦の王は、初めて「皇帝」と名乗り、<u>a 万里の長城を造った。</u></p>	<p>【 漢 】</p> <p>『漢書』や『後漢書』などの歴史書が書かれ、<u>b 東西の交流が活発になった。</u></p>	<p>【三国（魏）】</p> <p>魏・呉・蜀に分かれて争いが起きた。<u>P</u>の卑弥呼が魏に使いを送ってきた。</p>	<p>【南北朝】</p> <p>南朝と北朝に分かれて争いが起きた。そのため南朝から <u>c 倭国</u>に移住する人々がいた。</p>

- (1) 下線部 a の目的を、17図を参考にして説明しなさい。
- (2) 下線部 b に使われた交易路を何というか書きなさい。
- (3) P に入る国名を書きなさい。
- (4) 下線部 c が伝えたものとして誤っているものを、次のア~エから一つ選び記号で答えなさい。

- ア 土偶 イ 須恵器 ウ 仏教 エ 漢字

17図 紀元前3世紀



(5) カードⅡ～Ⅳのころ、日本は中国にたびたび使いを送ってつながりを求めていた。18図を見て、このころの中国は、東アジアにおいてどのような立場にあったか説明しなさい。


18図 倭王武の手紙 (部分要約)

私の祖先は、自らよろいやかぶとを身に着け、山や川をかけめぐり、東は55国、西は66国、さらに海をわたって95国を平定しました。しかし、私の使いが陛下の所に貢ぎ物を持っていくのを、高句麗がじゃまをしています。今度こそ高句麗を破ろうと思っておりますので、私に高い地位をあたえて激励してください。

(6) 次の X・Y は、カードⅠ～Ⅳのどの時代と関係が深いか、Ⅰ～Ⅳからそれぞれ一つずつ選び、記号で答えなさい。

X

Y



5 次の年表を見て、次の各問いに答えなさい。

年表

19図 成人した農民の負担

時代	年	出来事		税の種類	内容
飛鳥	604年	聖徳太子が十七条の憲法を制定する。	A	租	稲の収穫の約3%を納める
	645年	a 中大兄皇子と中臣鎌足らが <input type="text" value="X"/> 氏をたおし、新しい政治改革を始める			絹などの特産物を納める
	663年	白村江の戦いがおこる	B	庸	労役の代わりに麻の布を納める
	672年	壬申の乱がおこる			
奈良	710年	b 平城京に都が移される	C	雑徭	国司の下で1年に60日以内の労役
	743年	<input type="text" value="Y"/> が出される			
平安	794年	平安京に都が移される	D	兵役	衛士(都の警備): 1年間
	894年	c 遣唐使の派遣が停止される			防人(北九州の警備): 3年間
	1016年	d 藤原道長が摂政になる			

1 年表中の に当てはまる語句を書きなさい。

2 下線部 a について、この人物が行ったこととして正しいものを、次のア～エから一つ選び、記号で答えなさい。

- ア 才能や功績のある人物を役人に取り立てるために、冠位十二階を制定した。
- イ 唐や新羅の侵攻に備えるために、西日本の各地に山城や水城を築いた。
- ウ 仏教の力で国家を守るために、国ごとに国分寺を建て、都に東大寺を建てた。
- エ 律令に基づいた政治を行うために、唐にならい、大宝律令を制定した。

3 下線部 b について、20図は、農民に納めさせた税を記録した木簡である。この税を何というか、19図から一つ選び、書きなさい。

20 図 平城京跡から出土した木簡



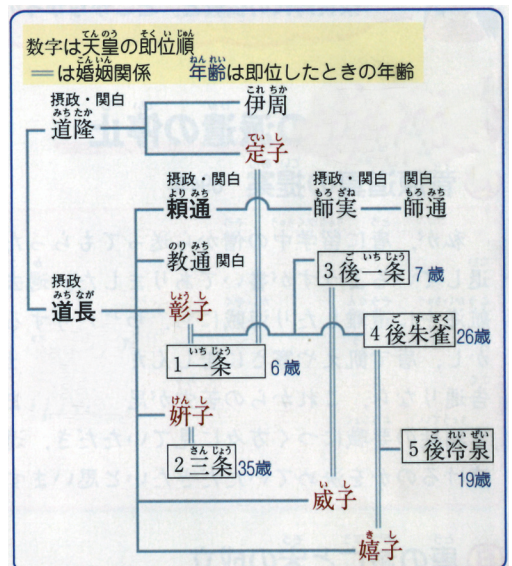
4 年表中の Y について、この法律が出されたことにより、それまでの国家が土地や人民を直接支配するという原則が崩れた。Y に当てはまる語句は何か、書きなさい。

5 下線部 c を提案をした人物はだれか書きなさい。

6 下線部 d について、次の (1)・(2) の各問いに答えなさい。

(1) この人物が政治の実権を握るために行ったことを、21図を参考にして、解答欄の形に合うように書きなさい。

21 図



(2) このころに栄えた文化の特徴について正しいものを、次のア～エから一つ選び、記号で答えなさい。

- ア 日本の風土や生活に合った文化で、仮名文字を使用した文学作品が生まれた。
- イ 日本で最初の仏教文化で、法隆寺や飛鳥寺が建てられた。
- ウ 国際色豊かな文化で、大陸や西アジアの文化が伝わった。
- エ 写実的で力強い文化で、東大寺南大門の金剛力士像がつけられた。

7 次の出来事が起こったのは年表中のどの時期か、A～Dから一つ選び、記号で答えなさい。

坂上田村麻呂を征夷大將軍とする軍が東北地方の蝦夷を攻め、朝廷の支配を広げた。

6 次の各問いに答えなさい。

1 カードA～Dを見て、次の(1)～(5)の各問いに答えなさい。

カードA

白河上皇

私は、a天皇の位を退いた後も、上皇となつて摂政や関白をおさえた政治を行いました。武士を登用し、勢力を拡大しました。

カードB

平清盛

私は、東日本に勢力を広げました。中国の宋との貿易を始め、兵庫の港を整備しました。武士として初めて X になりました。

カードC

Y

私の一族は執権という役職につき、政治の実権を握りました。私が制定した御成敗式目は、各地に広まり武家政治の基準とされました。

カードD

源頼朝

私は、壇ノ浦の戦いで勝利しました。その後、征夷大將軍となり、鎌倉幕府を開きました。b將軍と御家人は主従関係を結びました。

(1) 下線部 a の政治を漢字 2 字で書きなさい。

(2) 22図を見て、都の武士たちがどのような役割を担っていたか、説明しなさい。

(3) カードBの X に当てはまる役職名を書きなさい。

(4) カードCの Y に当てはまる人物名を書きなさい。

(5) カードDについて、次の①・②の各問いに答えなさい。

① 23図は、下線部 b の関係を説明したものである。Q に当てはまる語句を書きなさい。また、Q を説明した文として正しいものを次のア～エから 2 つ選び、記号で答えなさい。

- ア 守護や地頭に任命する。 イ 戦時に一族を率いて命がけで戦う。
ウ 新しい領地を与える。 エ 京都や鎌倉の警備につく。

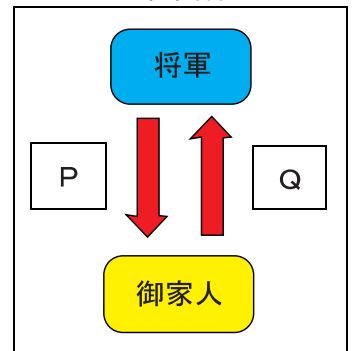
② カードA～Cは時代の古い順に並んでいる。この中にカードDを入れるとするとどの位置になるか、次のア～エから一つ選び、記号で答えなさい。

- ア Aの前 イ AとBの間 ウ BとCの間 エ Cの後

22図 白河上皇と武官



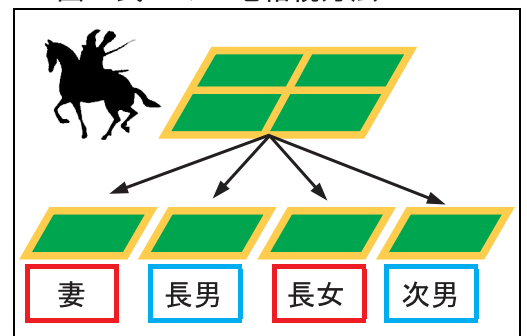
23図 主従関係



2 24図は、鎌倉時代の武士の土地相続方法について示したものである。図の内容として正しいものを、次のア～エから一つ選び、記号で答えなさい。

- ア あとつぎの長男にのみ土地が与えられていた。
イ 妻や女子に土地は与えられなかった。
ウ 土地は一族以外の家来たちに与えられていた。
エ 相続後は、一人あたりの土地の面積がせまくなった。

24図 武士の土地相続方法



3 鎌倉仏教について、次の(1)・(2)の各問いに答えなさい。

(1) 25図のような修行を行う宗派として正しいものを、次のア～エから一つ選び、記号で答えなさい。

ア 浄土真宗 イ 時宗 ウ 日蓮宗 エ 臨済宗

(2) 鎌倉時代に生まれた新しい仏教が人々に受け入れられた理由を、26図を参考にして、「救い」の語句を使って説明しなさい。

25 図 座禅の様子



26 図 鎌倉時代の新仏教と出来事

